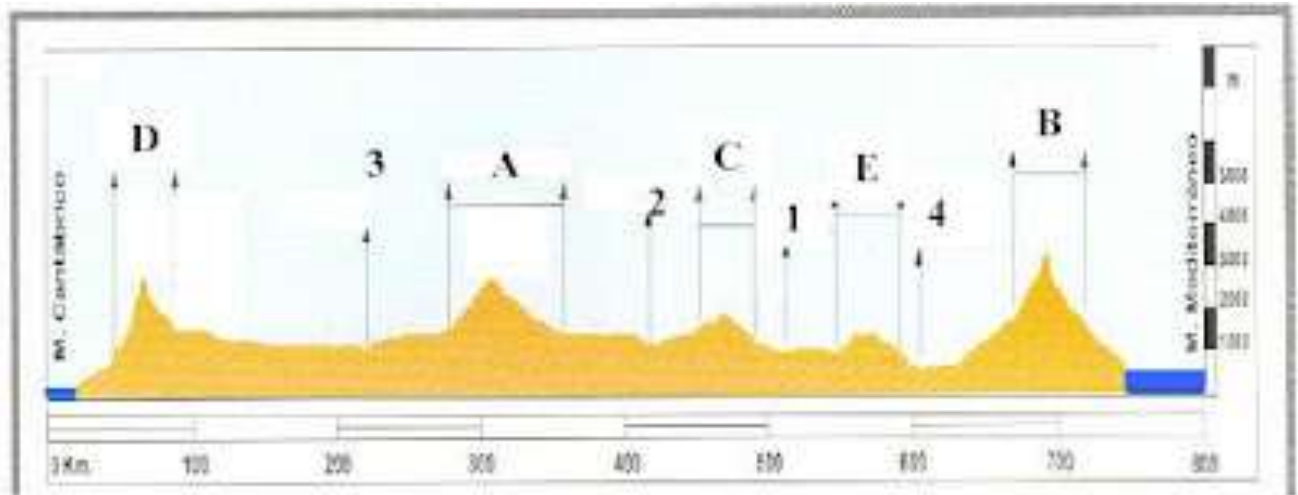


## PRÁCTICAS DEL RELIEVE DE ESPAÑA

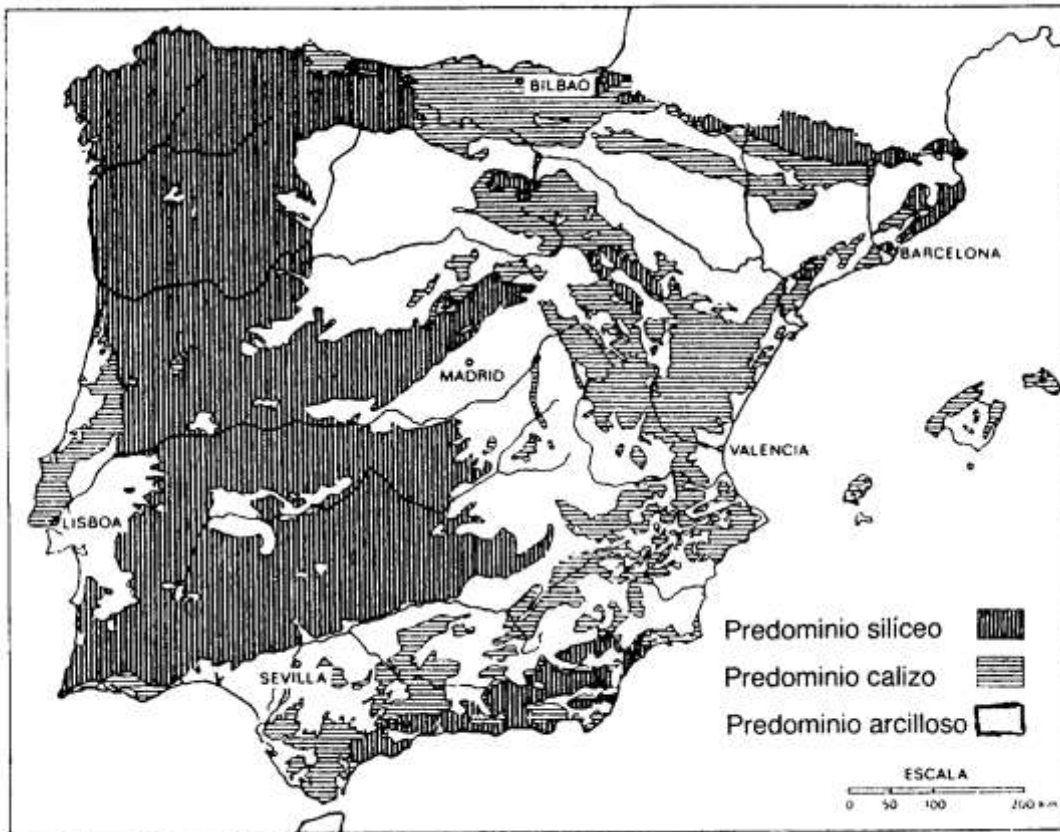
1. En el gráfico se representa un perfil topográfico de la Península Ibérica desde el Mar Cantábrico al Mar Mediterráneo. Analízelo y conteste a las preguntas siguientes:

- Diga el nombre, y la letra correspondiente, de los sistemas montañosos que aparecen en el gráfico, ordenados en sentido Norte-Sur.
- Diga el nombre, y los números correspondientes, de los ríos que aparecen en el gráfico, ordenados de Sur a Norte.
- De los sistemas montañosos, diga, con letra y nombre, cuáles de ellos son: interiores a la Meseta, exteriores a la Meseta, y periféricos a la Meseta.



**2. El mapa representa el roquedo de la Península Ibérica. Analícelo y responda a las siguientes preguntas:**

- Diga qué Comunidades Autónomas participan de litología caliza.
- Qué unidades de relieve se corresponden con cada uno de los tres grupos de rocas.
- Qué formas de relieve y qué rasgos topográficos asocia a cada una de las tres litologías.



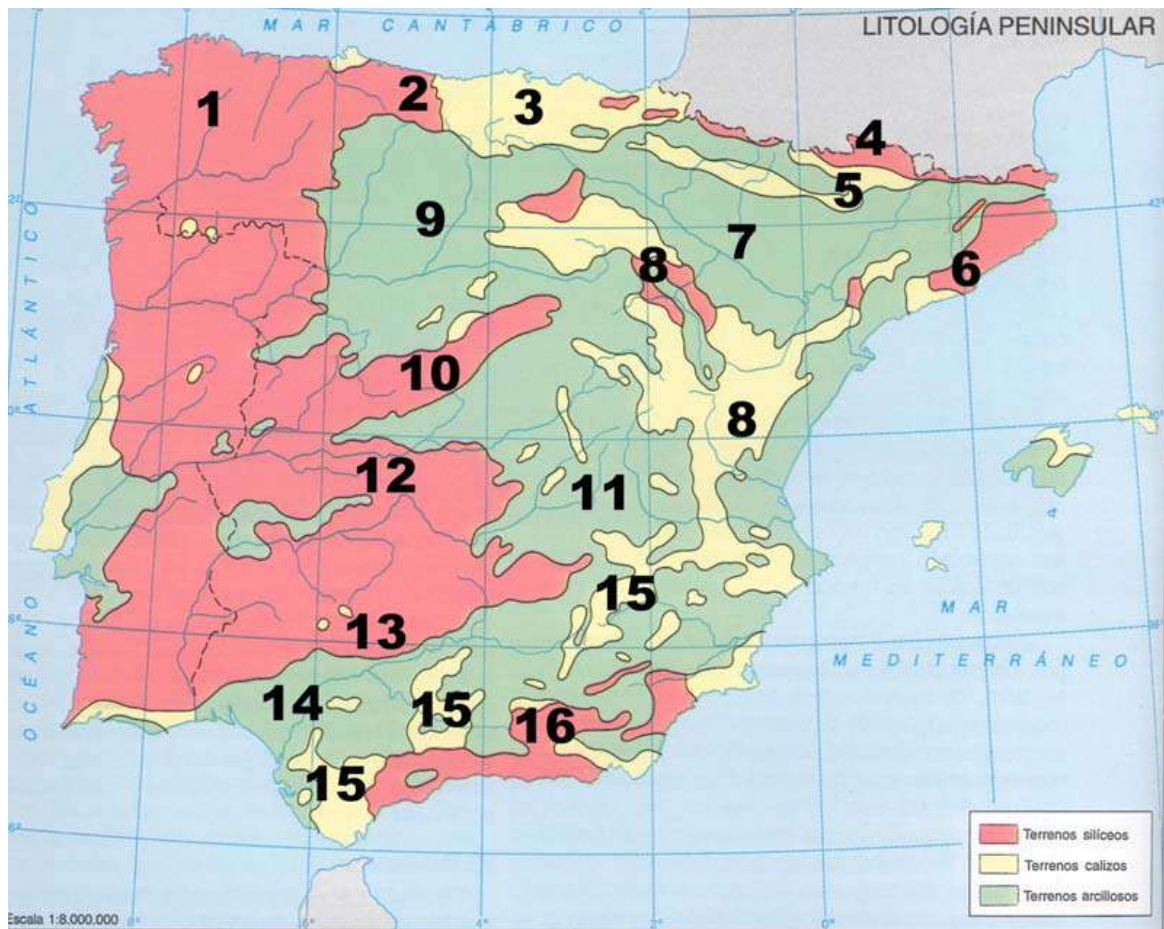
**3.- A continuación se presenta un mapa de la Península Ibérica en el que se refleja la distribución de las formaciones silíceas, calizas y arcillosas. Examínalo y responde a las cuestiones que se formulan.**

- Nombra las unidades de relieve incluidas en la España Caliza.
- Explica las diferencias en los procesos erosivos de las rocas silíceas y calizas.
- Observa el mapa y dime qué provincias españolas participan de litología arcillosa.



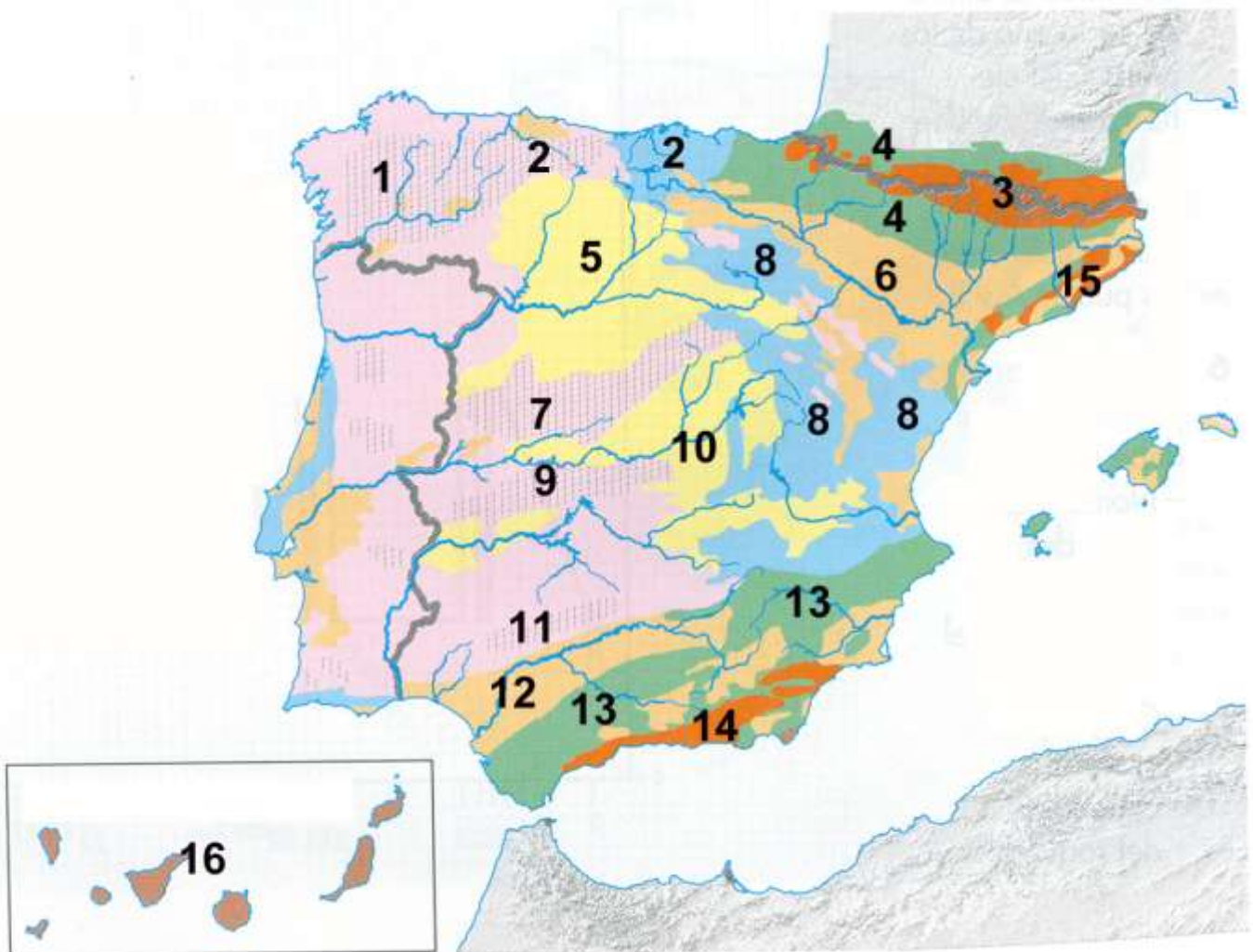
**4. El mapa muestra las unidades litológicas de la Península Ibérica. Tras su observación responda a las siguientes cuestiones:**

- Enumere, por separado, con sus números y nombre: las unidades interiores de la Meseta; las periféricas de la Meseta; y las exteriores a la Meseta
- Qué Comunidades Autónomas tienen parte o todo su territorio asentado sobre la Iberia silíceo en el Oeste peninsular
- ¿Qué relación básica guarda cada una de estas tres Iberias con distintos usos y aprovechamientos del territorio?



**5. El mapa representa las unidades morfoestructurales de España. Analízelo y responda a las siguientes preguntas:**

- Relacione, con nombre y número, las unidades de relieve exteriores a la Meseta
- Relacione, con nombre y número, las unidades de relieve interiores y periféricas de la Meseta.
- Partiendo de los tres principales tipos de roquedos de la Península, nómbralos y añádales los números que cada uno de ellos tiene superpuestos. ¿Qué rocas predominan en el 16?



**6. En la figura siguiente se representa un mapa con las regiones costeras españolas. Analícelo y conteste a las siguientes preguntas:**

- Diga cuáles son los accidentes geográficos señalados con sendas letras. (Hasta 1 punto).
- Indique el nombre de cada una de las provincias costeras numeradas. (Hasta 1 punto).
- Explique las características del tramo de relieve costero que se extiende en la provincia 4, y entre las provincias 8 y 9, así como la importancia turística y el nombre que recibe cada una de esas costas. (Hasta 2 puntos).



**7. A continuación se presenta un mapa de altitudes sobre el nivel del mar de España. A partir del mismo responde a las siguientes cuestiones:**

- Diga el nombre de las unidades de relieve señaladas numéricamente del 1 al 5. (Hasta 1 punto)
- Identifique y describa las características de los relieves señalados con las letras A y B. (Hasta 1 punto)
- Explique el origen de la formación de las principales zonas altitudinales que se observan en el mapa. (Hasta 2 puntos)

